

## L'apparato riproduttore

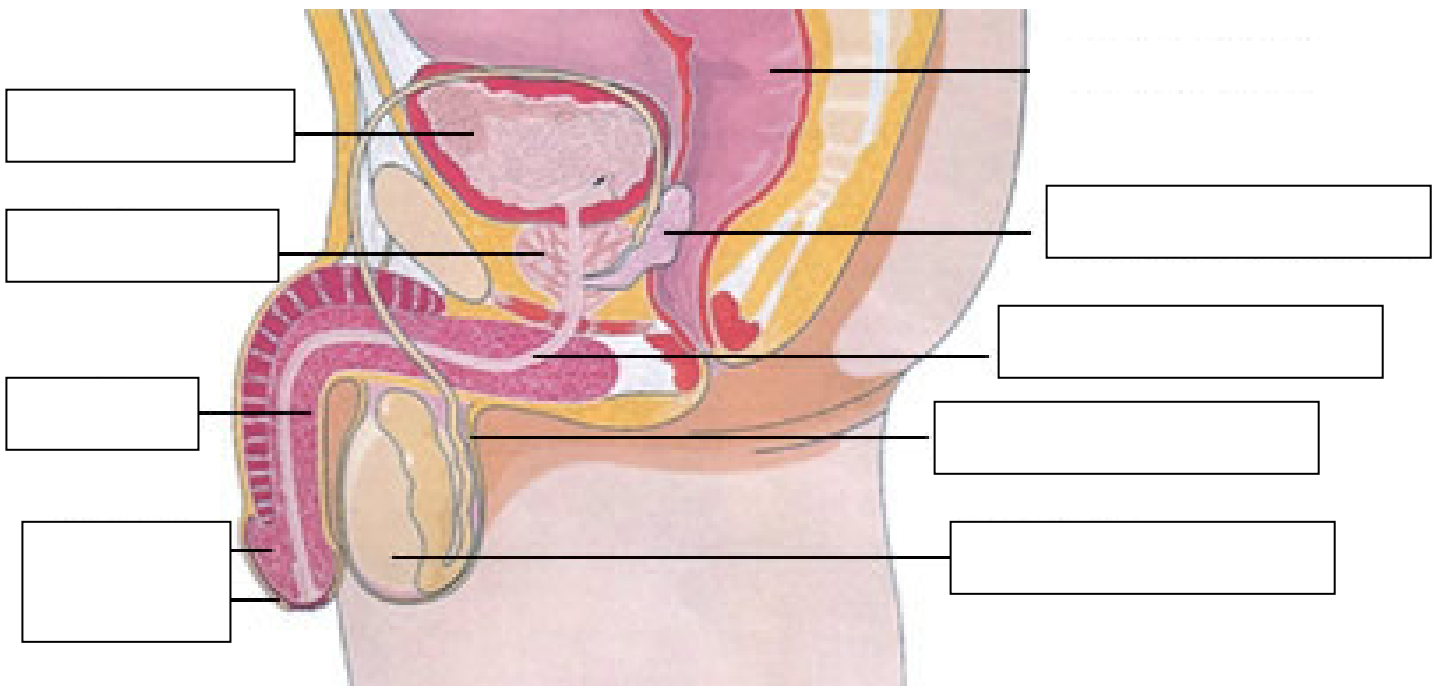
Alunno/a \_\_\_\_\_ classe \_\_\_\_\_ data \_\_\_\_\_

**Indica se i seguenti caratteri sessuali sono maschili (M) o femminili (F)**

Pene	M <input type="checkbox"/>	F <input type="checkbox"/>
Vagina	M <input type="checkbox"/>	F <input type="checkbox"/>
Testicoli	M <input type="checkbox"/>	F <input type="checkbox"/>
Grandi labbra	M <input type="checkbox"/>	F <input type="checkbox"/>
Prostata	M <input type="checkbox"/>	F <input type="checkbox"/>
Utero	M <input type="checkbox"/>	F <input type="checkbox"/>
Seno	M <input type="checkbox"/>	F <input type="checkbox"/>
Ovaie	M <input type="checkbox"/>	F <input type="checkbox"/>
Barba	M <input type="checkbox"/>	F <input type="checkbox"/>
Tube di Falloppio	M <input type="checkbox"/>	F <input type="checkbox"/>

**Questa immagine rappresenta gli organi genitali maschili. Riempi gli spazi vuoti con i termini dell'elenco.**

glande - pene - prostata - scroto - testicolo - uretra - vescica - vescicola seminale



**Descrivi cosa accade al maschio ed alla femmina umane durante la pubertà**

---

---

---

---

---

---

---

---

---

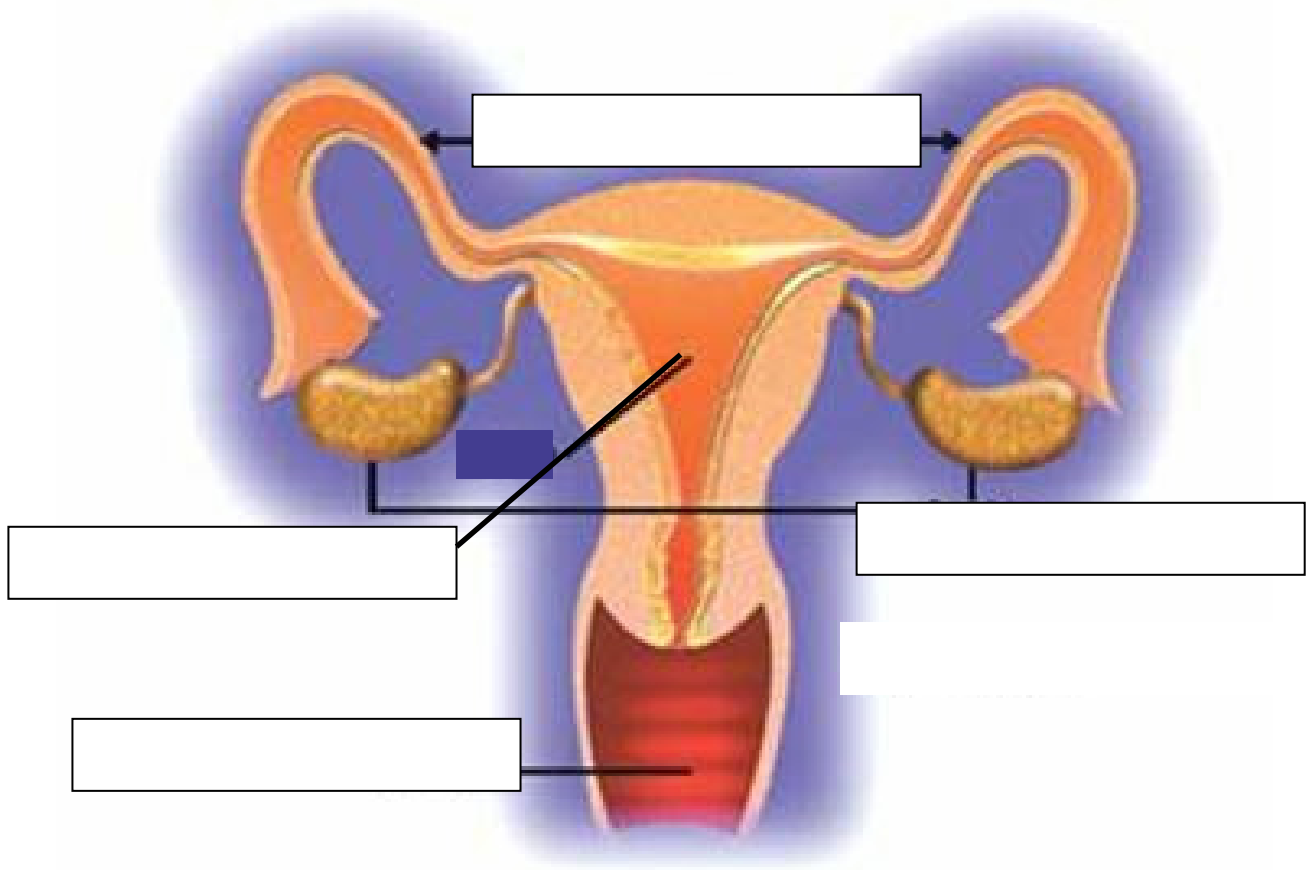
---

---

---

**Questa immagine rappresenta gli organi genitali femminili. Riempi gli spazi vuoti con i termini dell'elenco.**

ovaie – tube di falloppio – utero – vagina



**Cosa si intende con la parola CONCEPIMENTO?**

- ATTO SESSUALE
- UNIONE DI UNO SPERMATOZOO E DI UN OVULO
- MATRIMONIO

**Cosa sono le MESTRUAZIONI?**

- FUORIUSCITA DELLO SPERMA
- PERDITA DI SANGUE DALLA VAGINA
- DOLORI DI PANCIA

**Con quale parola si indica il momento in cui NASCE UN BAMBINO?**

- PARTO
- ATTO SESSUALE
- ESPULSIONE

**Quanto dura la GRAVIDANZA?**

- 28 GIORNI
- 9 MESI
- 6 MESI

**Di che tipo è la RIPRODUZIONE umana?**

- ASESSUATA
- GEMMAZIONE
- SESSUATA

**Quando la donna può essere FECONDATA?**

- SEMPRE
- OGNI 15 GIORNI
- 3 GIORNI AL MESE

## Quando l'uomo PUÒ FECONDARE la donna?

SEMPRE

OGNI 15 GIORNI

3 GIORNI AL MESE

## Come si chiama il GAMETE MASCHILE?

---

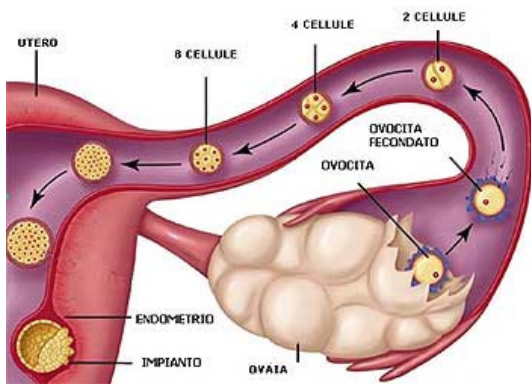
## Come si chiama il GAMETE FEMMINILE?

---

## Come si chiama la PRIMA CELLULA che si forma dopo la fecondazione?

---

## Osserva la figura e spiega cosa avviene



---

---

---

---

---

---

---

---

---

---

## Cosa succede durante la gravidanza? (aiutati con l'immagine)



---

---

---

---

---

---

---

---

---

---