

NOME E COGNOME:

CLASSE:


DATA:

VERIFICA DI MUSICA


1) DETTATO RITMICO

(FIGURE UTILIZZATE: d d x d d d 7 7 d d d d)

2.




2) LETTURA RITMICA




3) DAVANTI AD OGNI SEQUENZA INSERISCI IL METRO RITMICO


A




B



C




4) METTI UN CERCHIO INTORNO AD OGNI BATTUTA ERRATA






5) COMPLETA:

A. o = d +

B. d = d +


C.  = z +

D. o + d =  +  +  +



E.  =

F.  +  = d +  +

G. d +  =  + d +


H. z + z =  + z +

6) COMPLETA:

4  |  |  d ||

7) INVENTA UNA SEQUENZA RITMICA IN 3/4 FORMATA DA 12 BATTUTE, USANDO:

d d z     



8) RISPONDI:

A. COS'E' UNA BATTUTA?

- lo spazio tra due stanghette
- un battito di mani

B. COS'E' IL METRO RITMICO?

- la misura di una nota
- l'indicazione del tempo

9) COLLEGA CON UNA LINEA:

CHIAVE METRO RITMICO CROMA SEMIMINIMA PAUSA





z



