

TECNOLOGIA: VERIFICA SUL MERCATO DEL LAVORO

NOME COGNOME

CLASSE

domanda 1

Osserva l'immagine a sinistra prodotta mettendo insieme tre immagini di un settore della produzione: abbina i numeri delle immagini al relativo settore rappresentato (primario – secondario – terziario)



1= settore.....

2= settore

3= settore ..

domanda 2

Indica per ciascuna affermazione se é vera o falsa

A La produzione è l'insieme delle attività lavorative che l'uomo compie durante la giornata per rendere più creativo il suo tempo libero.

Vero Falso

B Nel settore primario si producono le materie prime per la produzione del settore secondario

Vero Falso

C Il terziario comprende quelle attività che producono servizi

Vero Falso

D La produzione si divide convenzionalmente in tre settori: primario, secondario, terziario.

Vero Falso

E Il secondario comprende quelle attività finalizzate alla vendita dei prodotti costruiti dall'uomo

Vero Falso

F Il lavoro é l'insieme delle attività fisiche e intellettuali retribuite, compiute dall'uomo per produrre beni e servizi

Vero Falso

domanda 3

Classifica le attività secondo i settori (primario – secondario – terziario)

Ospedali	settore....
Banche	settore....
Industria automobili	settore....
Produzione surgelati	settore....
Telecom	settore....
Allevamento	settore....
Azienda di floricoltura	settore....

domanda 4

Individua se le seguenti affermazioni sono vere o false.

A Oggi in Italia il tasso di disoccupazione si avvicina al 10%

Vero Falso

B Una società che si occupa della pubblicità appartiene al settore secondario

Vero Falso

C Gli studenti maggiorenni appartengono al settore terziario

Vero Falso

D Le casalinghe appartengono al settore dei servizi

Vero Falso

E Minori, invalidi e pensionati, appartengono alla popolazione attiva (che lavora) di un Paese

Vero Falso

F Gli insegnanti non producono

Vero Falso

G Un impiegato comunale appartiene al settore terziario

Vero Falso

H Il Perito meccanico lavorerà nel settore secondario

Vero Falso

domanda 5

Che cos'è un "bisogno":

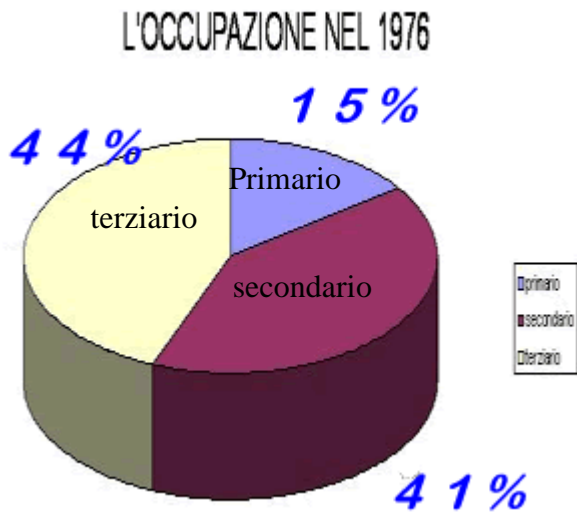
A tutto ciò che serve per togliere un disagio sentito da una persona

B la fine di un momento di insoddisfazione

C lo stato di insoddisfazione che spinge l'uomo a procurarsi il necessario per eliminarlo

domanda 6

Guarda bene il grafico e completa il testo con i termini mancanti



Nel 1976 il settore a più alto tasso d'occupazione era il
mentre il più basso tasso era costituito dal settore

domanda 7

Individua se le affermazioni sono vere o false

- A** Il postino lavora nel settore terziario
 Vero Falso
- B** Il Preside appartiene al settore terziario
 Vero Falso
- C** Il proprietario di una grande industria é un imprenditore
 Vero Falso
- D** Il libero professionista lavora alle dipendenze dell'imprenditore
 Vero Falso
- E** Se un lavoratore é autonomo significa che il suo lavoro viene organizzato da altri.
 Vero Falso

domanda 8

Indica se le seguenti affermazioni sono vere o false

- A** Gli studenti non fanno parte della popolazione attiva
 Vero Falso
- B** I volontari fanno parte della popolazione attiva
 Vero Falso
- C** L'insegnante é un lavoratore autonomo
 Vero Falso
- D** I lavoratori autonomi sono quelli che a fine mese ricevono uno stipendio dagli imprenditori
 Vero Falso
- E** Le casalinghe appartengono alla popolazione non attiva
 Vero Falso

F In Italia la maggior parte delle persone lavora nel settore secondario

Vero Falso

G Un avvocato con un proprio studio é un lavoratore dipendente

Vero Falso

H Per il futuro si prevede un aumento dell'occupazione nel settore primario

Vero Falso

I Il lavoro é uno dei fattori della produzione

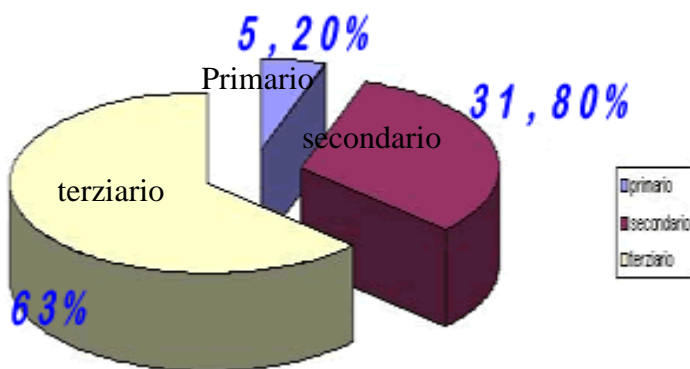
Vero Falso

J I lavoratori disoccupati non fanno parte della popolazione non attiva

Vero Falso

domanda 9

Osserva il grafico e completa il testo inserendo i termini mancanti



Nel 2003 si assiste ad un considerevole incremento degli occupati nel settore

..... mentre calano vertiginosamente gli occupati nel settore

domanda 10

Una delle imprese sotto elencate é un'impresa di servizi. Indica quale.

A a) allevamento di bestiame

B b) cantiere navale

C e) segheria

D c) Scuola

E d) sartoria

domanda 11

Sono lavoratori autonomi:

A dirigenti, operai, tecnici, impiegati, cassiere

B tecnici, dirigenti, imprenditori, bidelli, segretarie

C artigiani, commercianti, liberi professionisti

domanda 12

Il termine lavoro significa:

- A attività manuale molto faticosa
- B qualsiasi attività con uno stipendio
- C qualsiasi attività utile a qualcuno

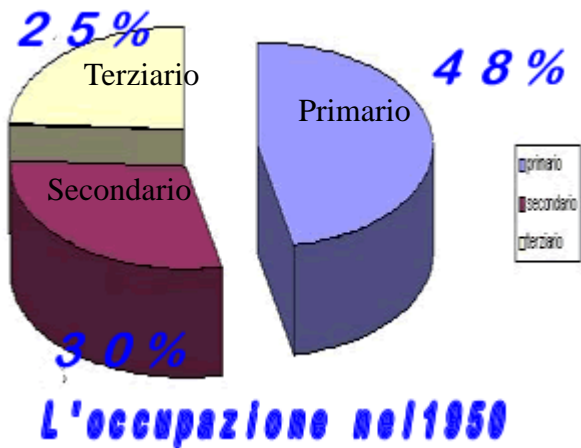
domanda 13

abbina gli indirizzi che trovi elencati al settore della produzione

servizi sanitari	settore terziario
servizi commerciali	settore terziario
agricoltura e sviluppo rurale	settore secondario
produzioni industriali e artigianali	settore primario
alberghi e hotel	settore secondario
industria alimentare	settore terziario

domanda 14

Osserva il grafico e completa il testo con i relativi termini mancanti



L'occupazione nel 1950

Nel 1950 il settore con più lavoratori era ancora il mentre quello con meno lavoratori era il settore

domanda 21

cosa si intende per forza-lavoro?

domanda 22

elenca alcuni esempi di CATEGORIE che non fanno parte della forza-lavoro

domanda 23

Che cos'è lo stipendio?

totale/58